

平成21年度 山形県立保健医療大学保健医療学部

特別選抜入学試験問題

小論文

注意事項

- 1 試験開始の合図があるまで、この問題冊子の中を見てはいけません。
- 2 問題冊子は4ページからなっています。解答用紙は3枚、下書き用紙は1枚です。
試験開始の合図とともに、直ちに問題冊子と解答用紙を点検し、印刷不鮮明、ページの落丁・乱丁及び汚れ等があったら、手を挙げて監督者に知らせてください。
ただし、問題の内容や解答の仕方についての質問は受け付けません。
- 3 監督者の指示に従って、すべての解答用紙に受験番号・氏名を記入してください。
- 4 問題用紙の余白等は適宜利用してもかまいません。
- 5 試験中は監督者に許可なく自席を離れたり、私語や談笑をしてはいけません。
- 6 試験終了後、問題冊子と下書き用紙は持ち帰ってもかまいません。

次の英文は、ユニセフ（UNICEF）が発行している『世界子供白書 2007（*The State of the World's Children 2007*）』からの引用（一部改編）である。この英文を読み、以下の問いに答えなさい。

Gender equality produces a double dividend: It benefits both women and children. Healthy, educated and empowered women have healthy, educated and confident daughters and sons. The amount of influence women have over the decisions in the household has been shown to positively impact the nutrition, health care and education of their children. But the benefits of gender equality go beyond their direct impact on children. Without it, it will be impossible to create a world of equity, tolerance and shared responsibility – a world that is fit for children.

注)

gender	ジェンダー（生物学的な性別〔sex〕に対して、社会的・文化的観点からみた性別）
dividend	恩恵
empowered	権限や力を与えられた
nutrition	栄養
tolerance	寛容

問1 この白書を発行しているユニセフの正式名称は何というか、以下の選択肢から1つ選び、記号で答えなさい。

- ア. 国際連合児童基金 イ. 世界保健機関 ウ. 世界貿易機関
エ. 国際連合教育科学文化機関 オ. 国際連合人口基金

問2 家庭での意思決定において女性の影響力が強い場合、何に良い効果を与えることがわかっているか、3点挙げなさい。

問3 ジェンダーの平等から何がもたらされると述べられているか、簡潔に答えなさい。

2

次のグラフは、マウスに卵白アルブミン（OVA）を注射した後に、マウスの血液中に生じる OVA に対する抗体の量の時間に伴う変化を示したものである。このうち、●は OVA を一度注射して、25 日後に再度同じ OVA を注射した場合の変化を示しており、一方、■は OVA を一度しか注射しなかった場合の変化、▲は OVA を注射して 25 日後にウシ血清アルブミン（BSA）を注射した場合の変化である。このグラフから、注射した物質とそれに対する抗体の産生量について、どのようなことが読み取れるか、以下の 2 つの観点を踏まえて、述べなさい。

- ・ 抗原を 1 回注射した場合と 2 回注射した場合の違い
- ・ 2 回目に注射する抗原の種類による違い

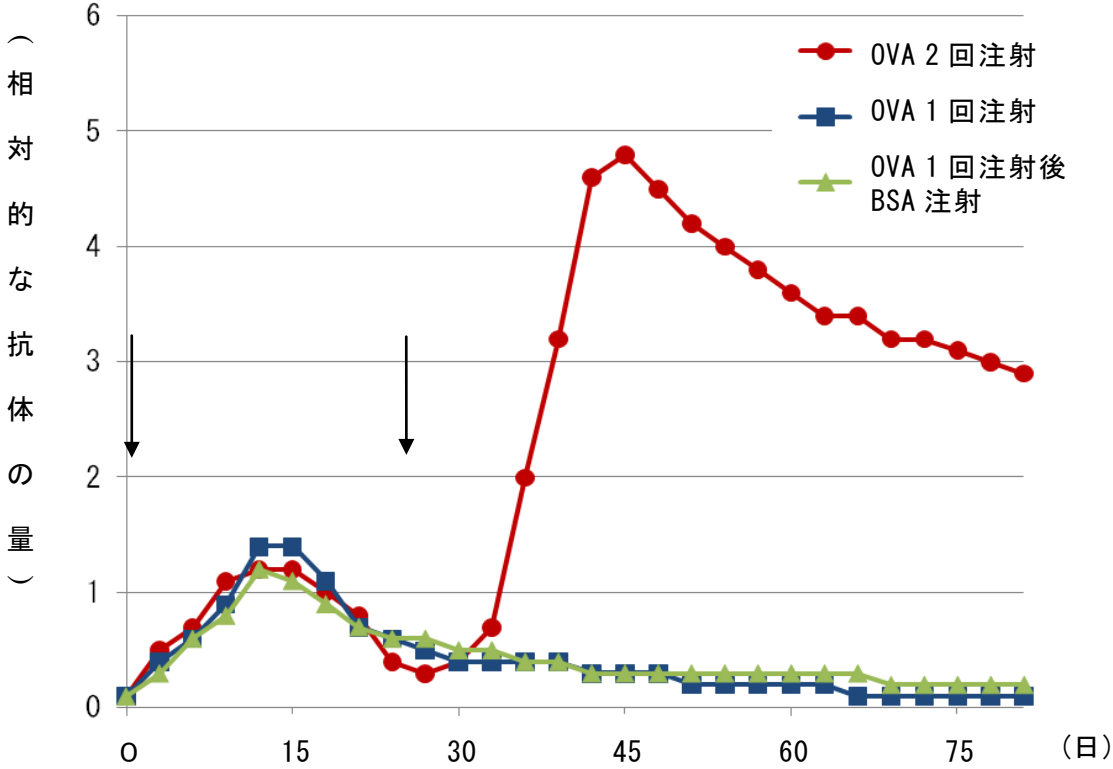


図 マウスの血液中の OVA に対する抗体の量の変化

注) ↓は抗原の注射を示す

次の2つの図は、日本の家族類型や高齢世帯割合について、都道府県別に2000年の状況と2025年の状況（予測）を示した資料である。これを参照して、以下の問いに答えなさい。

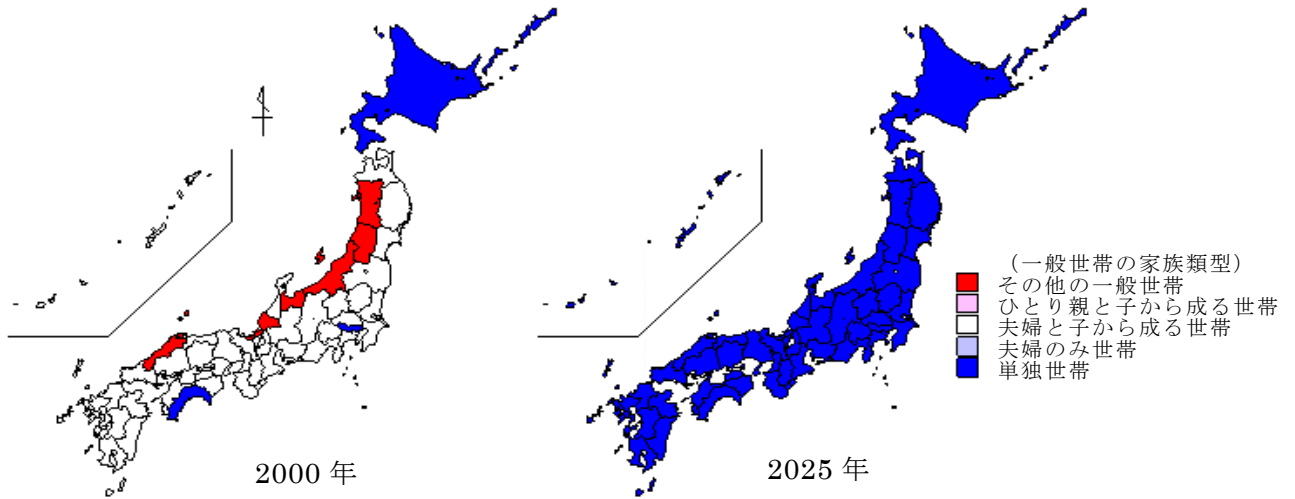


図1 一般世帯で最大の割合を占める家族類型(左:2000年、右:2025年)

注) 世帯は「一般世帯」と「施設等の世帯(例:社会施設の入所者)」に区別されている。

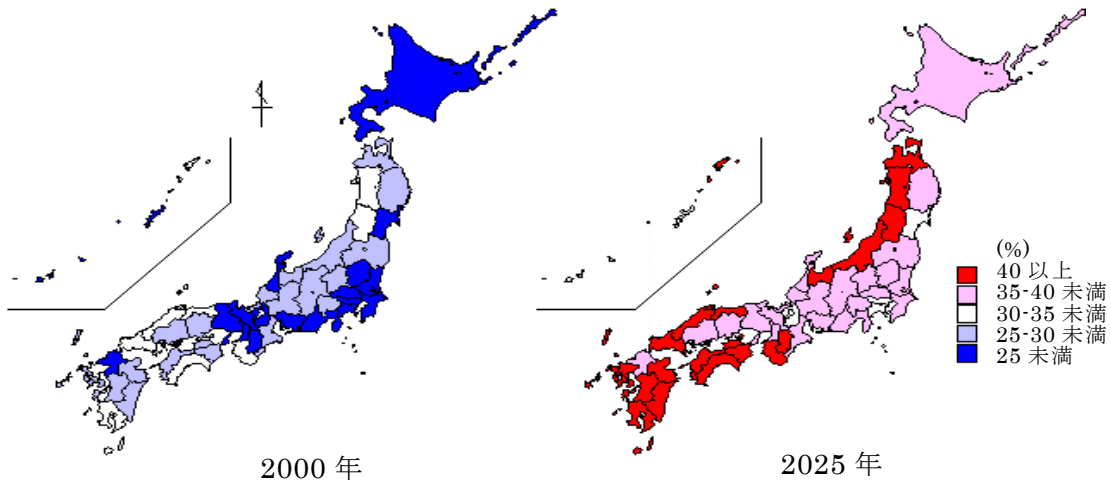


図2 高齢世帯割合(左:2000年、右:2025年)

注) 高齢世帯とは世帯主が65歳以上である世帯であり、高齢世帯割合とは高齢世帯が一般世帯に占める割合を示している。

出典) 国立社会保障・人口問題研究所:日本の世帯数の将来推計(都道府県別推計)の要旨 [2005(平成17年)8月推計]

問1 図1から読み取れることを述べなさい。(100字以内)

問2 図2から読み取れることを述べなさい。(100字以内)

問3 2025年には、どのような問題が生じると考えられるか、根拠も含めて述べなさい。(400字以内)

次の英文は、John F. Kennedy の大統領就任演説の有名な一節である。この英文を読み、以下の問いに答えなさい。

And so, my fellow Americans: ask not what your country can do for you—ask what you can do for your country.

My fellow citizens of the world: ask not what America will do for you, but what together we can do for the freedom of man.

出典) http://avalon.law.yale.edu/20th_century/kennedy.asp

問1 この文章が発信しているメッセージは何か、述べなさい。

問2 現代の社会問題を一つ挙げ、その問題の解決をはかるためには、どのようなことが大切だと考えるか、この文章にこめられたメッセージを踏まえて、述べなさい。(400字以内)